


제 4 교시

# 사회탐구 영역 (세계사)

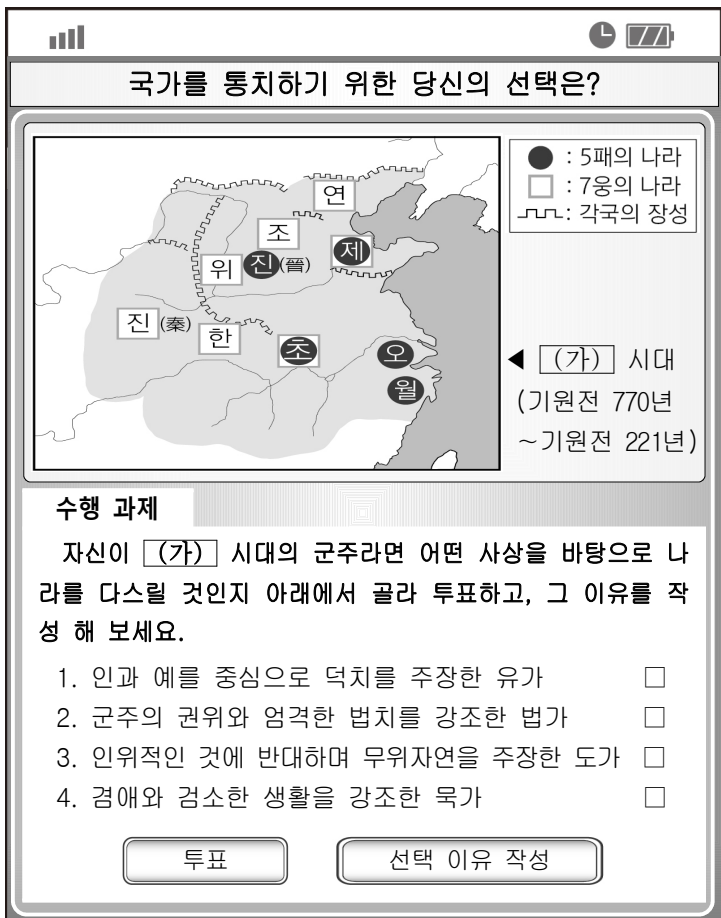
성명		수험번호					3				제 [    ] 선택
----	--	------	--	--	--	--	---	--	--	--	-------------

1. 다음 대화를 통해 알 수 있는 고대 문명에 대한 설명으로 옳은 것은?



- ① 지구라트를 축조하였다.
- ② 카스트제를 시행하였다.
- ③ 갑골 문자를 사용하였다.
- ④ 종법 제도를 확립하였다.
- ⑤ 사자의 서를 제작하였다.

2. (가) 시대에 대한 설명으로 옳은 것은?



- ① 죽림칠현이 나타났다.
- ② 이갈제가 실시되었다.
- ③ 향거리선제가 시행되었다.
- ④ 철제 농기구가 사용되었다.
- ⑤ 군수법과 평준법이 실시되었다.

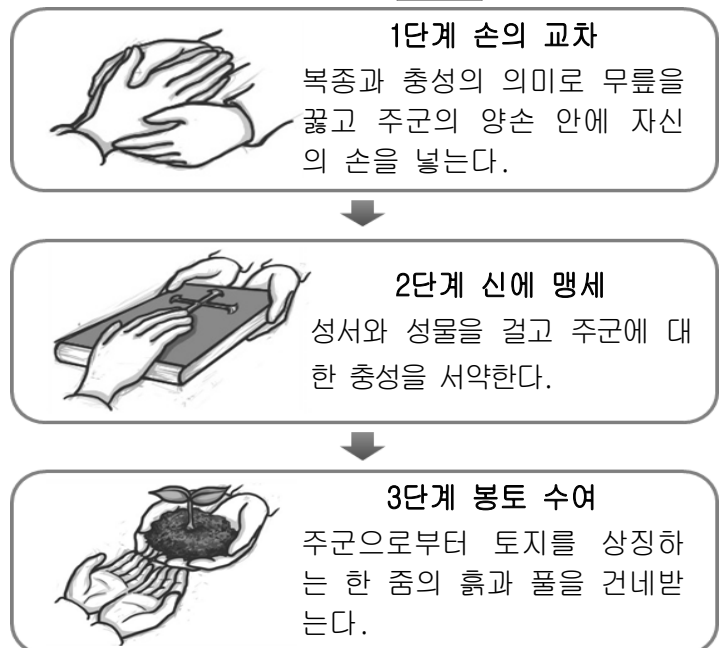
3. (가) 왕조에서 있었던 사실로 옳은 것은? [3점]



- ① 훈교학이 등장하였다.
- ② 사고전서가 편찬되었다.
- ③ 청담 사상이 등장하였다.
- ④ 과거에 전시가 도입되었다.
- ⑤ 파스파 문자가 제작되었다.

4. (가)에 대한 설명으로 옳은 것은? [3점]

중세 서유럽 기사가 주군의 (가) 이/가 되는 의례



- ① 삼포제로 구분된 농지를 경작하였다.
- ② 길드를 조직하여 자치권을 획득하였다.
- ③ 재판권 및 징세권을 독자적으로 행사하였다.
- ④ 국왕의 직속 상비군인 예니체리로 편성되었다.
- ⑤ 거주 이전의 자유가 없으며 공납의 의무를 졌다.

5. (가) 인물에 대한 설명으로 옳은 것은?

**세계사 인물 토론 수업**  
위대한 정복자인가? 무자비한 침략자인가?

□(가)□은/는 정복지에 그리스인을 이주시키는 등 동서 융합에 힘썼고, 이로 인해 헬레니즘 문화가 탄생하였습니다.

하지만 아케메네스 왕조 페르시아 정복 과정에서 많은 사람들을 학살하고, 재물을 약탈하여 악마로 묘사되기도 합니다.



- ① 프린켑스를 자처하였다.
- ② 알렉산드리아를 건설하였다.
- ③ 콘스탄티노폴리스로 천도하였다.
- ④ 투르·푸아티에 전투에서 승리하였다.
- ⑤ 교황으로부터 서로마 황제의 관을 받았다.

6. 다음 편지가 쓰였을 당시에 볼 수 있는 모습으로 적절한 것은? [3점]

교황님께

거룩하신 교황이시여! 제 책 『천체의 회전에 관하여』에서 지동설을 주장한다는 사실 때문에 일부 사람들이 저를 비난하고 있음을 잘 알고 있습니다. ... (중략) ... 제가 기존과는 다른 천체의 운동 법칙을 주장하게 된 것은 수학자들의 연구가 실제와 일치하지 않는다는 것을 깨달았기 때문입니다.

코페르니쿠스 올림

- ① 루터파를 지지하는 제후
- ② 자크리의 난에 참여하는 농민
- ③ 다윈의 진화론을 반박하는 성직자
- ④ 차티스트 운동에 참가하는 노동자
- ⑤ 대륙 봉쇄령에 불만을 표하는 상인

7. (가) 왕조에 대한 설명으로 옳은 것은? [3점]

모든 무슬람이 한 형제와 같다고 한 쿠란의 가르침과는 달리 무아위야에 의해 성립된 □(가) 왕조는 소수의 아랍인들이 사회적 특권을 독차지하는 ‘아랍인 절대 우위’의 사회였다. 예를 들어 군대에서 아랍인은 기병으로 복무하였지만, 비아랍인은 변방의 보병으로 편성되었고 낮은 봉급을 받아야 했다. 이러한 차별은 비아랍인들이 점차 □(가) 왕조에 대한 저항 세력으로 성장하는 배경이 되었다.

- ① 티마르제를 실시하였다.
- ② 몽골 제국에 멸망하였다.
- ③ 탈라스 전투에서 승리하였다.
- ④ 이베리아 반도까지 진출하였다.
- ⑤ 바그다드에 수도를 건설하였다.

8. (가), (나) 시기 사이에 발생한 사건으로 옳은 것은?

(가) 아침 내내 ‘바스티유를 향하여’라는 외침이 울려 퍼졌다. 시민 대표들은 무기를 찾으러 다녔다. 온갖 북소리가 대중을 흥분시켰고, 수많은 시민들이 이곳으로 일제히 밀려오고 있었다. 바스티유가 포위된 것이었다.

(나) 시민들이여, 폭군은 법의 칼을 받고 쓰러졌습니다. 이 위대한 행위로 봉건 귀족은 낙담하고 왕에 대한 미신이 사라져 공화국이 바로 세워졌습니다. 그리고 국민 공회가 프랑스인의 신뢰를 받는 존재가 되었습니다.

- ① 삼부회가 소집되었다.
- ② 테르미도르 반동이 일어났다.
- ③ 나폴레옹이 쿠데타를 일으켰다.
- ④ 테니스 코트의 서약이 발표되었다.
- ⑤ 인간과 시민의 권리선언이 발표되었다.

9. (가) 국가에 대한 설명으로 옳은 것은?

이 그림은 모로코에 대한 지배권을 둘러싼 제국주의 국가 간의 대립을 풍자한 것입니다. 낙타로 표현된 모로코를 차지하려는 □(가)을/를 독일이 저지하려고 애쓰는 모습이 나타나 있습니다.



- ① 3B 정책을 추진하였다.
- ② 파쇼다에서 영국과 충돌하였다.
- ③ 이산들과나에서 줄루족과 전투를 벌였다.
- ④ 발칸 반도에서 범슬라브주의를 제창하였다.
- ⑤ 영국과 함께 카자르 왕조의 영토를 분할하였다.

10. 다음 협정문이 발표된 시기를 연표에서 옳게 고른 것은? [3점]


프로이센의 국왕, 헤센 공작, 바이에른 국왕, 뷔르템베르크 국왕은 독일 내 자유로운 무역 및 상업 유통의 증진을 위해서 기존에 체결된 관세 협정을 개선하려는 노력을 해 왔다. 그리고 더 나은 발전을 위해 다음을 승인하였다.

1. 위 국가들은 앞으로 공통의 관세 및 교역 체계에 의해 운영되는 관세 협회를 구성한다.

(가)	(나)	(다)	(라)	(마)
7년 전쟁 발발	빈 회의 개최	신성 동맹 결성	철혈 정책 선언	독일 제국 수립
삼국 동맹 결성				

- ① (가)
- ② (나)
- ③ (다)
- ④ (라)
- ⑤ (마)

11. (가) 운동의 결과로 옳은 것은? [3점]



열강의 이권 침탈에 분노한 중국의 민중들이 ‘부청멸양’의 구호를 내걸고 외국인과 교회를 공격하는 (가) 운동을 전개하였으나 8개국 연합군에 의해 진압되었다. 이 그림은 당시에 그려진 것으로 가운데 었드린 용은 중국을, 이를 둘러싼 8마리의 동물은 8개국 연합군을 상징한다.

- ① 대장정이 단행되었다.
- ② 공행 무역이 폐지되었다.
- ③ 시모노세키 조약이 체결되었다.
- ④ 러시아가 연해주를 획득하였다.
- ⑤ 외국 군대의 베이징 주둔이 허용되었다.

12. (가)에 들어갈 문화유산으로 적절한 것은?

○○○○○ 보물전

(가)

일시: 2020. 7. △. ~ 9. △.

장소: □□박물관

12세기 크메르족이 힌두교 사원으로 건립하였으나 이후 불교 사원으로 바뀐 ○○○○○. 이곳에서 발견된 캄보디아의 보물들이 우리나라를 찾아옵니다.


< 주요 전시품 >



제1관 : 힌두교 유물관



- 팔이 넷 달린 비슈누 신상

제2관 : 불교 유물관

- 땀 위에 앉아 있는 불상

- ① 

② 
- ③ 

④ 
- ⑤ 

13. 다음 연설로 시작된 전쟁 중에 있었던 사실로 옳은 것은?

우리는 베르사유의 일방적인 결정이 초래한 문제로 인해 고통받아 왔고, 상황은 더욱 악화되었습니다. 폴란드 회랑 지역은 독일의 영토였으며 지금도 독일의 영토이어야 합니다. ... (중략) ... 나치당이 정권을 잡기 15년 전, 상황을 개선할 기회가 있었습니다. 나는 수차례나 이 상황을 개선하기 위한 방안을 제시했지만 모두 거부되었습니다. ... (중략) ... 나는 나치이자 독일 군인으로서 열정을 갖고 이 투쟁에 참여합니다.

- ① 마셜 계획이 수립되었다.
- ② 수많은 유대인이 학살되었다.
- ③ 14개조 평화 원칙이 발표되었다.
- ④ 제1차 국·공 합작이 성립되었다.
- ⑤ 러시아에서 11월 혁명이 일어났다.

14. (가)에 들어갈 내용으로 가장 적절한 것은?


‘하얀 금’이라고 불린 설탕의 수요가 급증하자, 유럽인들은 아메리카 대륙에 플랜테이션 농장을 운영하면서 원주민들을 혹사하였다. 가혹한 노동과 천연두 등의 전염병으로 원주민 수는 급격히 감소하였고, 이로 인해 노동력 부족 사태가 발생하였다. 이에 유럽인들은 (가)

- ① 인민 헌장을 발표하였다.
- ② 인클로저 운동을 전개하였다.
- ③ 제1차 대륙 회의를 개최하였다.
- ④ 식민 도시인 카르타고를 건설하였다.
- ⑤ 아프리카 원주민을 노예로 동원하였다.

15. 밑줄 친 ‘제국’에서 있었던 사실로 옳은 것은? [3점]

오늘은 이슬람불

탄지마트가 묻힌 곳, 궁전은 결국 무덤이 되었다.



베르사유 궁전을 모델로 건립된 돌마바흐체 궁전은 서구식 근대 개혁을 통해 제국의 부흥을 꾀한 술탄의 비전이자 신념의 상징이었다. 그러나 막대한 유지비는 엄청난 빚으로 돌아왔고, 개혁은 동력을 잃게 되었다. 결국 과거의 영광을 되살리고자 했던 탄지마트는 화려한 이 궁전에 묻혀 버렸다.

- ① 벵골 분할령이 발표되었다.
- ② 네르킨스크 조약이 체결되었다.
- ③ 군관구제·둔전병제가 시행되었다.
- ④ 청년 튀르크당 정권이 수립되었다.
- ⑤ 브라흐마 사마지 운동이 전개되었다.

16. 밑줄 친 ‘이 막부’ 시기에 볼 수 있는 모습으로 적절한 것은?  
[3점]



- ① 견당사로 파견되는 유학생
- ② 청·일 전쟁에 참전하는 군인
- ③ 가부키 공연을 관람하는 상인
- ④ 다이카 개신을 발표하는 관리
- ⑤ 헤이안쿄 천도를 명하는 국왕

17. 밑줄 친 ‘황제’에 대한 설명으로 옳은 것은? [3점]

이슬람 제일주의 정책을 펼쳤던 황제는 오랜 전쟁을 통해 제국의 역사상 최대 영토를 확보하였다. 그러나 데칸고원의 마라타 왕국을 정복하기 위해 15년 간 전쟁을 치르면서 인도 북부 지역에 대한 방어를 소홀히 하였다. 이를 틈타 펀자브의 시크교 세력이 계속해서 제국에 저항하였다. 결국 황제는 저항 세력과의 전쟁에서 완전한 승리를 거두지 못하였고 이후 제국은 위기에 빠지게 되었다.

- ① 지즈야를 부활하였다.
- ② 헤지라를 단행하였다.
- ③ 세포이 항쟁을 진압하였다.
- ④ 밀레트 제도를 운영하였다.
- ⑤ 레판토 해전에서 승리하였다.

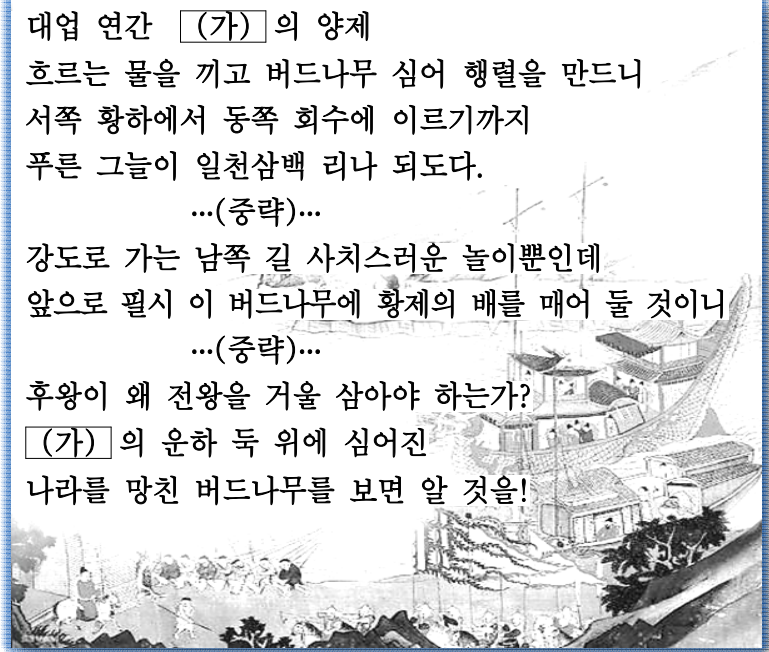
18. (가) 체제에 대한 탐구 활동으로 가장 적절한 것은? [3점]

**우표로 보는 세계사**

이 우표는 1989년에 열린 몰타 회담을 기념하는 우표이다. 몰타 회담에서는 미국을 중심으로 한 자유 민주주의 진영과 소련을 중심으로 한 공산주의 진영이 반세기 가까이 대립해 왔던 **(가)** 체제가 종식되었음을 선언하였다.

- ① 닉슨 독트린의 영향을 살펴본다.
- ② 사라예보 사건의 결과를 파악한다.
- ③ 국제 연맹의 창설 배경을 알아본다.
- ④ 미국 남북 전쟁의 원인을 분석한다.
- ⑤ 데카브리스트 봉기의 전개 과정을 조사한다.

19. (가) 왕조에 대한 설명으로 옳은 것은?



- ① 팔기군을 조직하였다.
- ② 주전충에게 멸망하였다.
- ③ 일조편법을 시행하였다.
- ④ 고구려 원정에 실패하였다.
- ⑤ 맹안 모극제를 운영하였다.

20. (가) 제국에서 볼 수 있는 모습으로 적절한 것은?



14세기 에스파냐 지역에서 제작된 카탈루냐 지도첩에는 『동방견문록』 등 당시 동서 문화 교류의 성과가 반영되어 있다. 마르코 폴로는 **(가)** 제국의 역참을 이용하여 아시아 지역을 여행하였는데, 이 지도에는 동방으로 향하는 마르코 폴로 일행, 쿠빌라이 칸의 모습이 나타나 있다.

- ① 재정 업무를 처리하는 색목인
- ② 정화에게 항해를 명령하는 황제
- ③ 자금성 건설에 참여하는 노동자
- ④ 곤여만국전도를 제작하는 지식인
- ⑤ 데지마에서 교역하는 네덜란드 상인

\* 확인 사항

○ 답안지의 해당란에 필요한 내용을 정확히 기입(표기)했는지 확인 하시오.